

Prénom : _____

Livret d'autonomie n° 1

Les mots cachés 4



Moi, je sais tout sur la maîtresse

E	E	H	C	R	A	M	R	E	P	U	S	Q	A	D
B	S	V	U	P	X	T	X	N	J	T	D	C	I	M
P	R	S	A	C	X	U	E	R	U	O	M	A	N	Z
Q	L	O	E	P	V	P	G	Y	X	Z	Ç	N	X	F
F	D	T	N	R	J	D	B	F	H	I	E	T	G	Ç
Z	E	J	Z	Z	T	K	C	O	U	R	R	I	F	D
C	J	N	C	G	E	I	Q	D	D	T	I	N	U	F
Q	E	X	I	W	W	R	A	V	N	S	O	E	V	H
O	D	E	R	C	E	R	U	M	A	I	T	C	Y	I
E	H	F	E	P	S	K	P	Z	R	E	S	O	Q	R
U	E	I	T	W	W	I	E	Y	G	S	I	L	K	L
J	G	B	P	Q	L	V	P	Q	B	T	H	E	B	B
M	A	R	M	Ç	R	O	H	X	Y	E	P	R	F	K
M	L	K	O	S	U	A	E	A	B	K	G	Q	Ç	D
Q	P	Y	C	L	A	S	S	E	H	A	H	R	F	T



GRAND
MAITRESSE
ECOLE
SUPERMARCHE
CANTINE

RECRE
PISCINE
CLASSE
PLAGE
BRONZER

COUR
SIESTE
HISTOIRE
COMPTER
AMOUREUX

Les blasons

d'autonomie - Les points à relier



l marron

t vert

f bleu



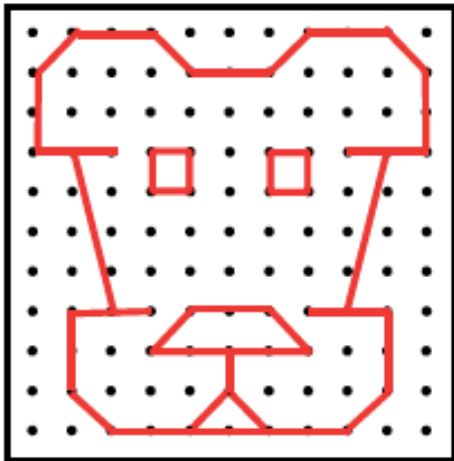

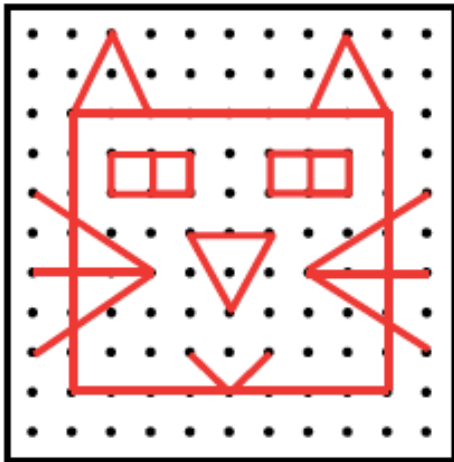
h jaune

m rouge




n orange

u rose

r violet



Entoure les 7 différences entre les premiers et les seconds dessins.



A toi de dessiner !

Colorie en vert quand le total fait 10

Colorie en jaune quand le total fait 11

Colorie en rouge quand le total fait 12

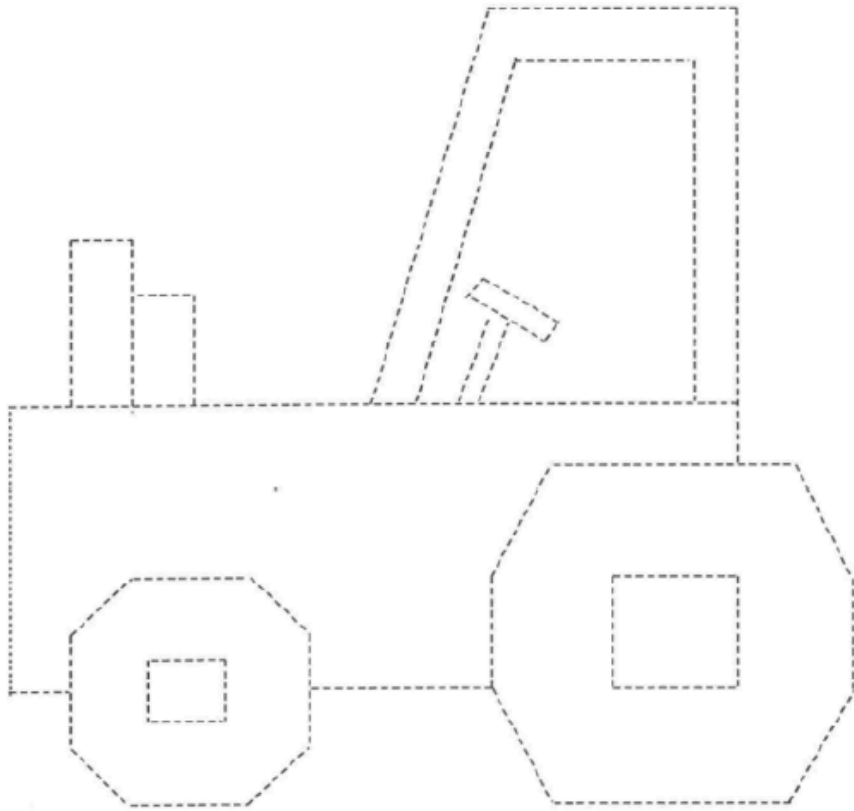
Laisse la case en blanc quand la réponse n'est ni 10, ni 11, ni 12.

1+1	3+3	8+1	7+2	9+4	3+1	5+9	7+1	2+3	18
2+2	4+1	9+5	4+4	5+3	13	3+2	24	7+7	4+1
8+6	6+7	7+1	2+6	3+6	4+5	8+7	5+1	28	9+6
5+4	20	2+2	4+3	19	17	9+3	23	3+3	29
2+5	4+2	7+8	8+5	3+4	7+5	4+8	5+7	22	2+2
9+8	3+7	33	2+4	31	6+6	3+9	8+4	3+3	7+6
5+5	9+1	2+8	8+1	8+4	9+3	12	7+5	6+6	4+4
7+3	6+4	1+9	5+4	5+7	4+8	3+9	8+4	12	27
8+2	10	3+7	16	3+8	2+9	5+6	4+7	8+3	3+6
4+6	5+5	9+1	6+1	7+4	6+5	8+9	3+5	9+2	21
6+8	5+5	5+3	4+9	8+3	11	7+2	5+8	7+4	36
2+6	6+4	9+7	6+9	4+7	9+2	5+6	6+5	8+3	9+9
14	7+3	32	2+7	6+5	5+2	6+1	4+7	2+9	5+1
6+3	8+2	6+2	35	2+9	9+5	●	7+4	5+6	34
26	1+9	30	8+8	7+4	15	7+9	8+3	9+2	25

Les blasons

d'autonomie - Cache-cache






Le tracteur

Labyrinthe 4

Objectifs : se repérer dans l'espace / connaître l'ordre des lettres de l'alphabet

Trace le chemin en suivant l'ordre des lettres de l'alphabet.



Compétence : compter de 2 en 2

Compétence : lire et comprendre une consigne



Labynombre de 2 en 2

GRILLE A

4	7	9	11	17	19	22	8
6	8	10	12	14	25	9	11
9	7	13	15	16	22	13	18
6	5	8	3	18	4	17	2
10	4	2	16	20	9	5	4
1	9	7	18	22	7	6	1
14	9	11	8	24	12	14	8
20	13	9	5	26	28	30	32



Lis les consignes et colorie ce qu'on te demande.

1. Colorie les citrouilles en violet.
2. Colorie les feuilles sur le sol en rouge.
3. Colorie l'écureuil en rose.
4. Colorie les feuilles qui volent en bleu.
5. Colorie la barrière en jaune.
6. Colorie le tronc de l'arbre en orange.

Lis et dessine


La maison de Céline.

Le toit est rouge et la porte est bleue. Il y a des rideaux jaunes à une fenêtre. Il y a de jolies fleurs devant la maison.


A droite, il y a un arbre.











Un nuage gris passe au dessus de l'arbre. Deux oiseaux volent.

De la cheminée sort une épaisse fumée noire.



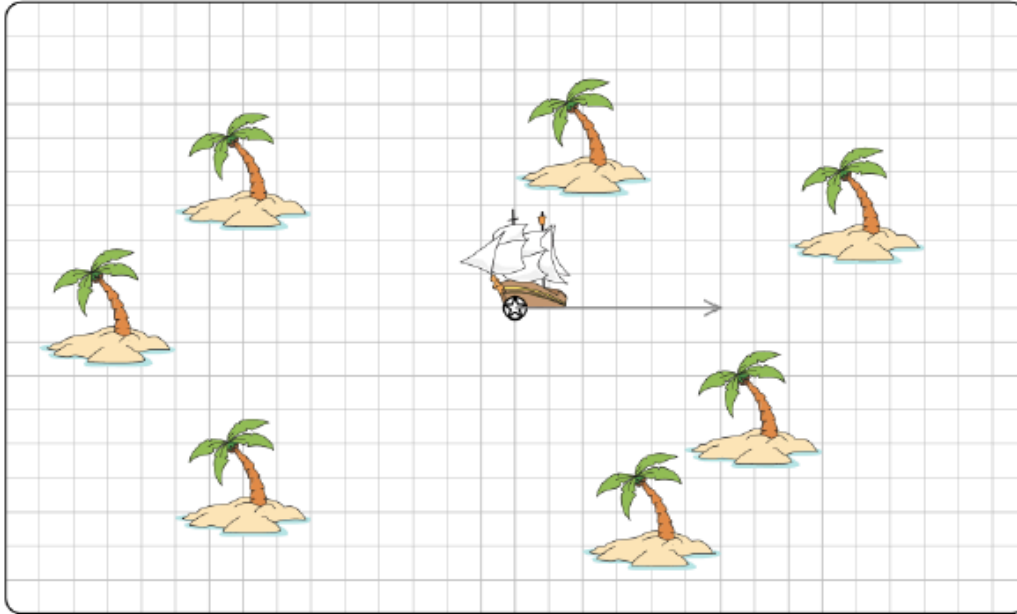
ISPY SPACE



 <u>9</u>	 <u>9</u>	 <u>10</u>	 <u>11</u>	 <u>8</u>
 <u>10</u>	 <u>9</u>	 <u>8</u>	 <u>12</u>	 <u>8</u>

Sur quelle île les pirates ont-ils caché leur trésor ?

Commence par effectuer les calculs. Ensuite, à partir de l'étoile au centre du quadrillage, déplace-toi dans la direction indiquée du nombre de nœuds que tu as trouvé (cases grises). A la fin, entoure la bonne île.



Réalisé à partir de : www.worlabnetworks.com
www.tutibazar.fr

- | | | | | | | |
|----|------------------|----|---|---|---|----|
| 1 | vers la droite : | 6 | + | 2 | = | 8 |
| 2 | vers le haut : | 8 | + | | = | 11 |
| 3 | Vers la gauche : | 2 | + | | = | 6 |
| 4 | Vers le bas : | 10 | + | | = | 15 |
| 5 | Vers la gauche : | | + | 6 | = | 9 |
| 6 | Vers le haut : | | + | 2 | = | 5 |
| 7 | Vers la gauche : | | + | 2 | = | 11 |
| 8 | Vers le bas : | | + | 4 | = | 9 |
| 9 | Vers la droite : | 5 | + | | = | 8 |
| 10 | Vers le haut : | 9 | + | | = | 19 |

- | | | | | | | |
|----|------------------|---|---|---|---|----|
| 11 | vers la droite : | | + | 4 | = | 8 |
| 12 | vers le bas : | | + | 5 | = | 9 |
| 13 | Vers la gauche : | | + | 9 | = | 18 |
| 14 | Vers le bas : | | + | 7 | = | 10 |
| 15 | Vers la droite : | | + | 4 | = | 7 |
| 16 | Vers le haut : | 6 | + | | = | 11 |
| 17 | Vers la droite : | | + | 7 | = | 14 |
| 18 | Vers le bas : | 6 | + | | = | 16 |
| 19 | Vers la droite : | 2 | + | | = | 11 |
| 20 | Vers le haut : | 9 | + | | = | 12 |

